

IED CARLOS ALBAN HOLGUÍN SEDE C SAN JOSE
GUÍA DE SOCIALES APRENDO EN CASA
DOCENTE: BETTY GARCÍA y MAGDA PEÑA
GRADO TERCERO JT

La guía debe ser resuelta en el cuaderno.

1. Decora tercer período en forma horizontal.
2. Escribe la planeación del tercer período.

Hilo conductor: mi país se organiza y es muy alegre.

Tópico generador: ¿Cómo está organizado mi país?

Meta de comprensión: reconocer la ubicación astronómica y geográfica de Colombia.

Desempeños: Identifica la división política de Colombia, a través de la observación y realización del mapa.

Establece diferencias entre las características geográficas, culturales y económicas de cada una de las regiones que componen nuestro país Colombia.

Reconoce la necesidad de los medios de transporte en la vida diaria del ser humano.

Posición astronómica y geográfica de Colombia

3. Realiza el mapamundi y ubica a Colombia. También puede ubicar los continentes y océanos, explicados en clase presencial.

Ubicación Geográfica de Colombia



POSICIÓN GEOGRÁFICA

La República de Colombia se localiza al noroeste del continente de América del Sur. Al norte limita con la República de Panamá y el mar Caribe, por el Oriente con las Repúblicas de Venezuela y Brasil, por el sur con las Repúblicas de Perú y Ecuador, y por el occidente con el océano Pacífico.

POSICIÓN ASTRONÓMICA

La posición absoluta ó astronómica de Colombia es: $12^{\circ} 26' 46''$ latitud norte en punta gallinas (Guajira), $4^{\circ} 13' 30''$ de latitud sur en la desembocadura de la quebrada San Antonio en el río Amazonas, $66^{\circ} 50' 54''$ de longitud oeste desde la isla de San Josa, en el río Negro, $79^{\circ} 01' 23''$ de longitud oeste sobre la costa pacífica en el cabo manglares.

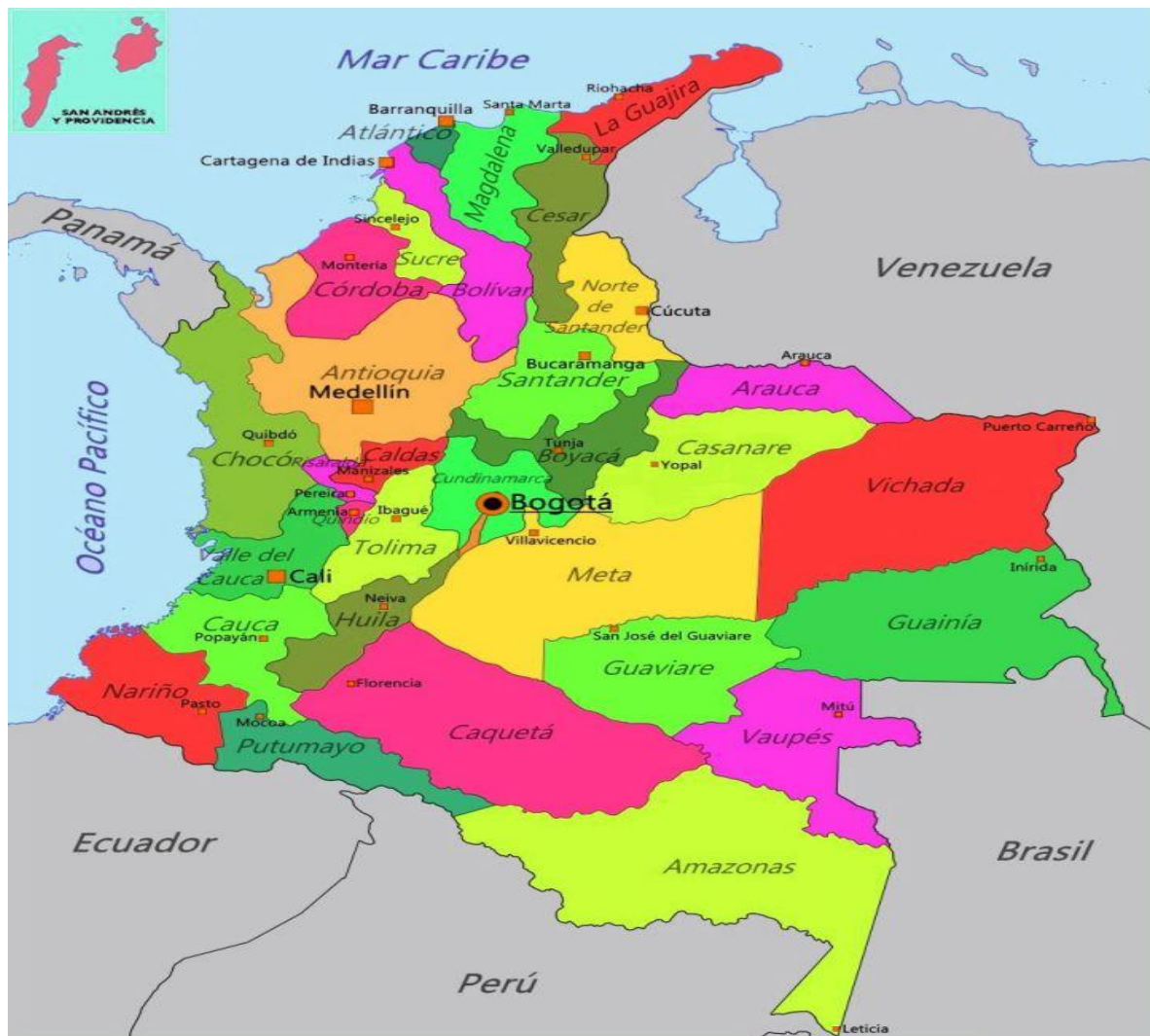
4. Realiza y colorea el mapa de Colombia y ubica la posición geográfica (límites)



División política de Colombia

Colombia se divide en 32 departamentos, cada departamento tiene una capital y varios municipios estos son encabezados por un gobernador y una asamblea de diputados elegidos en elecciones populares por un periodo de 4 años. Los gobernadores están encargados de la administración autónoma de los recursos otorgados por el Estado. Tienen autonomía en el manejo de los asuntos relacionados con su jurisdicción y funcionan como entes de coordinación entre la nación y los municipios.

5. realiza el mapa. No se le olvide ubicar en cada mapa de Colombia los límites.



6. Escribe los departamentos de Colombia y al frente su capital. Debe repasar.

7. Completa y aprende.

El planeta donde vive se llama:

El continente donde vive se llama:

El país donde vive se llama:

El departamento donde vive se llama:

La ciudad donde vive se llama:

La localidad donde vive se llama:

El barrio donde vive se llama:

El presidente de Colombia es:

La alcaldesa de Bogotá es:

Relieve colombiano

El accidente geográfico más importante de Colombia es la cordillera de los Andes que viene desde Ecuador, situada en la parte central y occidental del país. Los Andes están conformados por tres cadenas montañosas principales paralelas entre sí: la cordillera Oriental, la cordillera Central y la cordillera Occidental. Las cumbres más elevadas son los picos Cristóbal Colón (5.776 m) y Simón Bolívar (5.535 m). Destacan varios picos volcánicos: Nevado del Ruiz, 5.400 m; y Santa Isabel, volcán puracé, Sierra Nevada de Santa Marta, Serranía de la Macarena, Macizo colombiano, Nudo de los Pastos, Nudo de Paramillo...

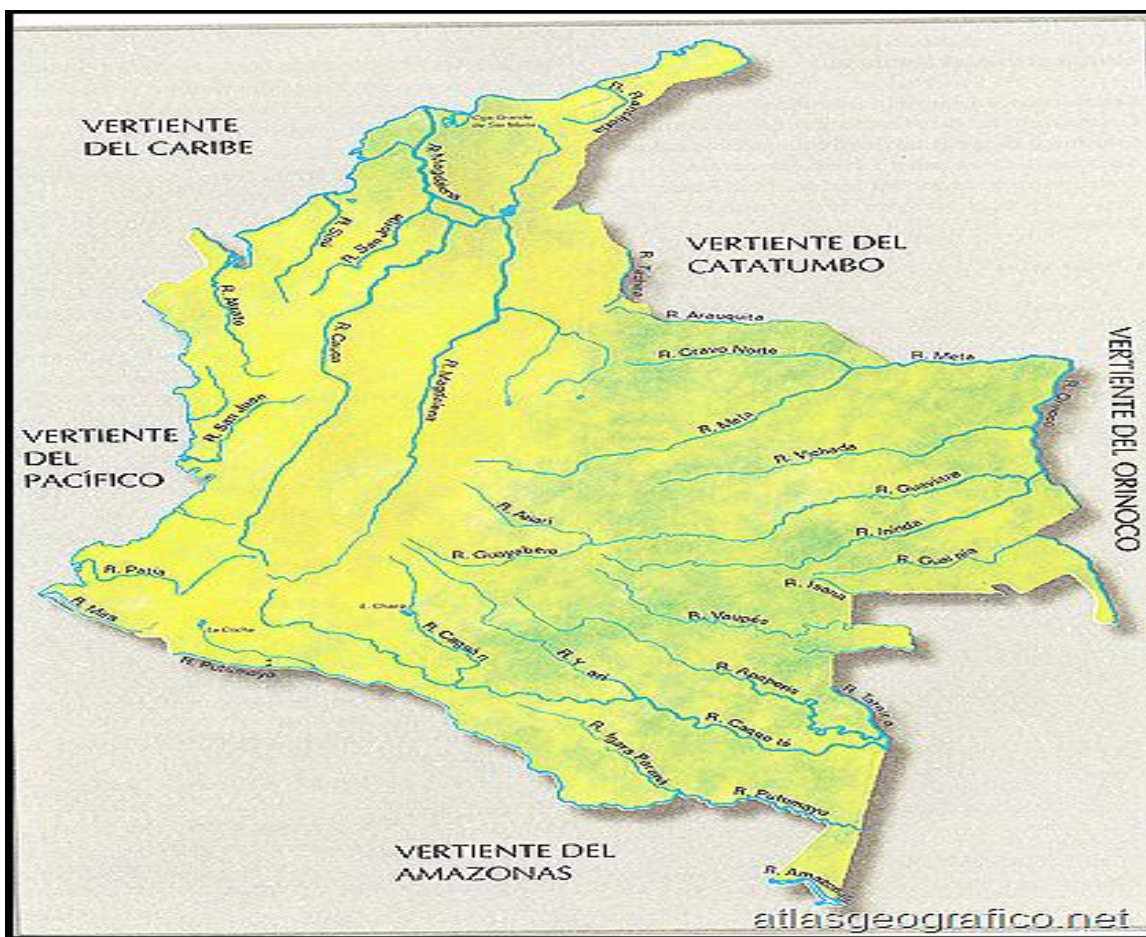
8. Realiza el mapa del relieve colombiano y ubica las cordilleras con sus ramales, los principales volcanes, las serranías, entre otros.



Hidrografía colombiana

La hidrografía trata de todo lo relacionado con el agua como los ríos, lagos, lagunas... Algunos ríos importantes son: el río Magdalena, el río Cauca, el río San Juan y Patía. El Putumayo y el Caquetá discurren por el sureste del país y desembocan en el Amazonas.

9. Realiza el mapa de la hidrografía de Colombia con sus vertientes que es donde desembocan los ríos.



- ¿Digo por qué es importante el agua para los seres vivos?
- Defino qué son los ríos y explico cuáles son sus beneficios.
- Realizo un cuadro comparativo entre río, lago, lagunas y ciénagas.

Regiones de Colombia

Las **regiones naturales de Colombia** son divisiones territoriales realizadas a partir de características en cuanto a relieve, clima, vegetación y clases de suelo del país.

Colombia se divide en 6 regiones:

Amazonía

Pacífica

Atlántica

Insular

Orinoquía

Andina

11. Realiza el mapa de las regiones de Colombia.



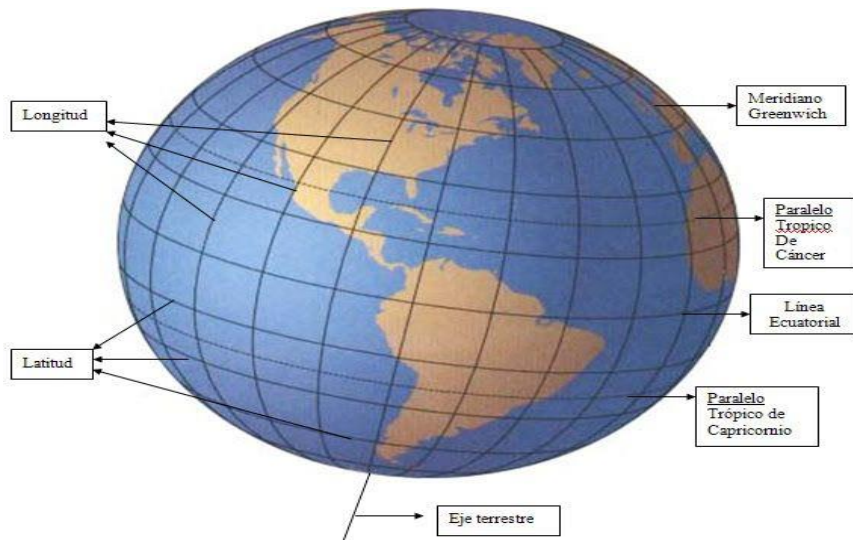
12. Escribe las principales características de cada región como: departamentos que la integran, actividades económicas, platos típicos, trajes típicos, bailes folclóricos...

Clima colombiano

Gracias a la posición astronómica de Colombia en la zona central del planeta y de su relieve, nuestro país tiene el privilegio de poseer una gran variedad de climas.

El clima en Colombia se define a partir de las condiciones de la atmósfera y las características del relieve. Estas características están clasificadas en dos grupos: los factores del clima y los elementos del clima.

FACTORES QUE DETERMINAN EL CLIMA EN COLOMBIA



Latitud: Colombia se encuentra ubicada sobre la línea del Ecuador en la Zona de Latitud baja o zona intertropical. Por lo tanto, recibe los rayos solares de manera fuerte durante todo el año. Gracias a esto y al relieve del país, encontramos periodos de lluvia y periodos de sequía.

Altitud: Gracias a las cordilleras, Colombia presenta una gran variedad de climas que van desde los más calientes hasta los más fríos.

La variedad de altura y de temperatura da lugar a pisos bioclimáticos.

Cercanía al mar: La cercanía a los océanos Pacífico y Atlántico permite que los vientos marinos propicien variedades de temperatura, así como lluvias en las costas colombianas.

13. Dibuja los pisos térmicos.

Medios de transporte

Los **medios de transporte** forman parte de nuestro día a día de forma directa e indirecta. Con ellos podemos desplazarnos a diferentes lugares y obtener alimentos y otros enseres procedentes de pueblos, ciudades o países. Los medios de transporte son acuáticos como el barco, aéreos como el avión y terrestres como el tren, autos...

14. Dibuja los medios de transporte.